




Základy fungovania ekonomiky, krivka produkčných možností opakovanie

VET M Cvičenie 3.



Ing. Zuzana Staníková, PhD.

Úloha 1. opakovanie - doplňte k jednotlivým definíciám príslušné pojmy



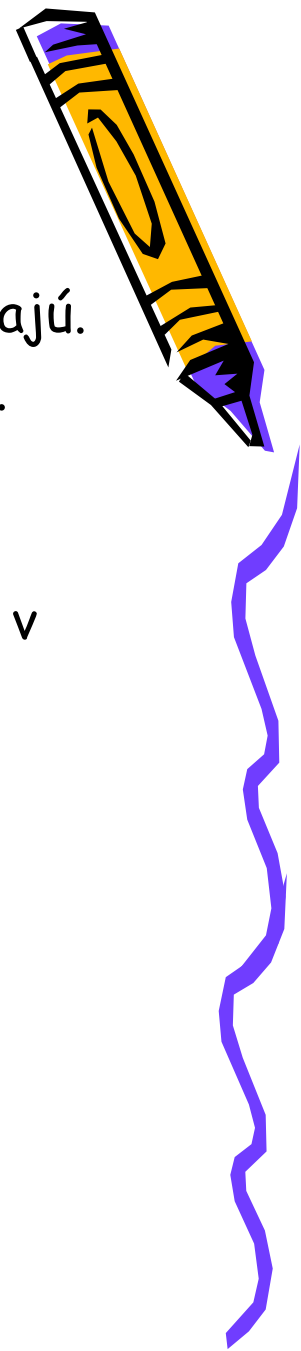
1. Ekonomika zdôrazňujúca záujem celku a potláčajúca záujem jednotlivca.
2. Obmedzenosť zdrojov neumožňuje vyrábať všetky statky, ktoré by ľudia chceli spotrebovať.
3. Statky, ktoré sú výsledkom výrobného procesu a sú určené na výrobu iných statkov.
4. Alternatívne kombinácie výstupov, vyprodukované dostupnou technológiou pri plnom využití všetkých zdrojov.
5. Trh, fungujúci bez štátnych zásahov .
6. Typ ekonomiky s prvkami trhu aj čiastočných zásahov štátu.
7. Ekonomika založená na slobodnom podnikaní a voľnej súťaži, fungujúca prostredníctvom trhového mechanizmu.
8. Statky určené na uspokojenie potrieb.
9. Hodnota statkov, ktorých sme sa vzdali v prospech iných statkov.
10. Uvedomelý alebo nevedomelý pocit nedostatku, ktorý sa snažíme uspokojiť.



Úloha 2.

Určite, ktoré z nasledujúcich tvrdení sú pravdivé pre zmiešanú, a ktoré pre direktívnu ekonomiku:

- a) Podniky sa sami rozhodujú, koľko pracovníkov zamestnajú.
- b) Rozdeľovanie všetkých príjmov je kontrolované vládou.
- c) Vláda rozhoduje, čo sa bude produkovať.
- d) Podniky si určujú technológiu na výrobu statkov.
- e) Podnikom je na základe plánu určené čo majú vyrábať, v akom množstve, z čoho, akým spôsobom a ako budú produkty rozdelené.
- f) Existencia rôznych foriem vlastníctva.
- g) Rozdeľovanie príjmov štátu je kontrolované vládou.
- h) Existencia len štátneho vlastníctva.
- i) Čiastočné zásahy štátu do ekonomiky.



Úloha 3. - doplňte

1. Adam Smith bol zakladateľom politiky
2. To, že zvýšený dopyt po investíciách vedie k multiplikačnému efektu, popísal ekonóm
3. V súčasnosti je najčastejšie sa vyskytujúcim typom hospodárstva
4. Ekonomický systém, ktorý zdôrazňuje záujem celku sa nazýva
5. Ak ekonomika vyrába na úrovni alokačnej efektívnosti hovoríme, že vyrába na
6. V súvislosti s krivkou produkčných možností, ak ekonomika nemá dostatok zdrojov hovoríme o alternatívach.
7. V súvislosti s krivkou produkčných možností volíme medzi alternatívami alebo



Úloha 3. - doplňte (pokračovanie)


8. Medzi nevýhody trhového systému patrí produkcia
externalít.
9. V zmiešanom ekonomickom systéme prevláda
vlastníctvo.
10. K posunu krivky produkčných možností dochádza v dôsledku
.....
11. Každá ekonomika rieši základné problémy a to,
..... a vyrábať.
12. Na slobodnom podnikaní a voľnej súťaži je založený
systém (ekonomika).
13. Väčšina ekonomík v súčasnosti funguje na princípe
ekonomického systému.



Úloha 4.


Nakreslite krivku produkčných možností hypotetickej ekonomiky, ktorá produkuje spotrebné statky a kapitálové statky. Do uvedeného grafu zakreslite jednotlivé kombinácie týchto statkov (A, B, C alebo D), ak bude ekonomika

- A. produkovať efektívne,
- B. produkovať na úrovni potenciálneho produktu,
- C. v recesii
- D. mať nedostatok zdrojov



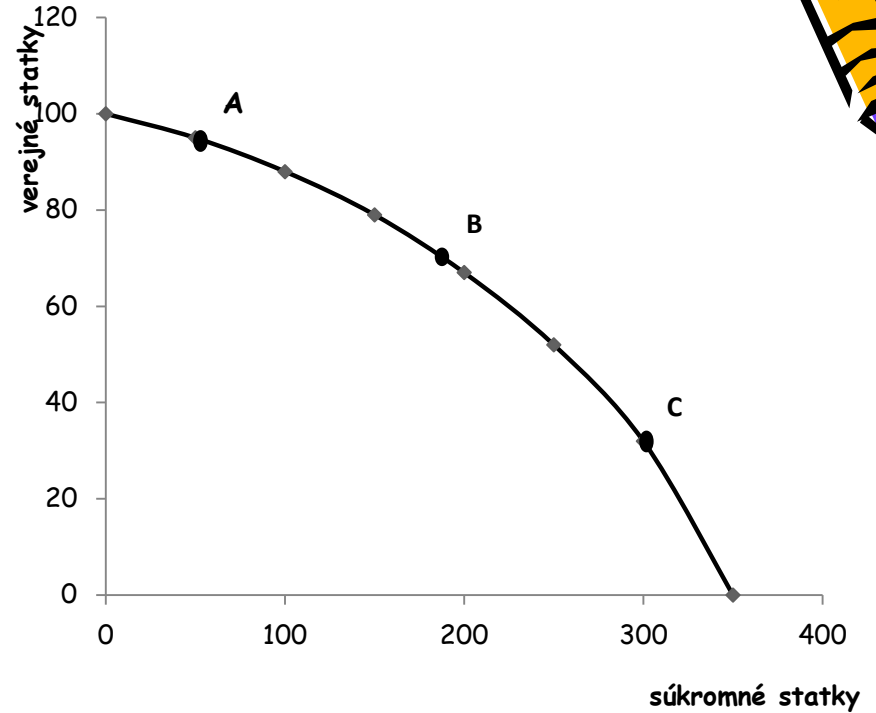
Úloha 5.

Graf znázorňuje krivku produkčných možností ekonomiky, ktorá volí medzi verejnými a súkromnými statkami. Tri body A, B a C reprezentujú ekonomiky, v ktorých vláda hrá viac alebo menej aktívnu úlohu. Prirad' te každý z týchto bodov k popisu niektorej z uvedených hypotetických ekonomík.



Úloha 5. - pokračovanie

- Ekonomika, v ktorej vláda zasahuje tak málo, ako je len možné a poskytuje len minimálne potrebné množstvo základných statkov.
- Ekonomika, v ktorej má vláda veľkú zodpovednosť, vysokú úroveň zdanenia a poskytuje značné verejné statky.
- Ekonomika, v ktorej vláda poskytuje viac než nevyhnutné množstvo verejných statkov, ale ponecháva priestor pre prosperujúci súkromný sektor.




Úloha 6.

Predpokladajme hypotetickú krajinu, ktorá vyrába len dva druhy statkov: spotrebné a kapitálové statky.


- a) Nakreslite graf krivky produkčných možností tejto krajiny.
- b) V grafe vyznačte efektívne, neefektívne a nedosiahnuteľné alternatívy.
- c) V grafe vyznačte a slovne popíšte, čo sa stane s uvedenou krivkou, ak bude táto krajina len nahrádzať opotrebované kapitálové statky novými.
- d) V grafe vyznačte a slovne popíšte, čo sa stane s uvedenou krivkou, ak sa v dôsledku modernejšej technológie zvýši produkcia ako kapitálových, tak aj spotrebných statkov.

Ing. Zuzana Staníková, PhD.



Úloha 7.- Sú nasledujúce tvrdenia správne? ÁNO/NIE

- a) Ekonomika je veda, ktorá sa zaoberá správaním ľudí.
- b) Mikroekonómia sa zaoberá správaním jednotlivých ekonomických subjektov ako sú domácnosti a firmy.
- c) Zvýšenie kapacít ekonomiky sa odrazí v posune jej krivky produkčných možností „smerom von“.
- d) Ekonomika, s 20% mierou nezamestnanosti sa nachádza na vonkajšej strane krivky produkčných možností.
- e) V príkazovej ekonomike súkromný trh nehrá žiadnu úlohu.
- f) Medzi kapitálové statky patria cenné papiere.



- g) Kapitálové statky sú výsledkom ekonomickej činnosti ľudí.
- h) Alternatívne náklady vyjadrujú hodnotu obetovanej príležitosti.
- i) Trhová ekonomika je charakteristická voľnou tvorbou cien.
- j) Ekonomický rast nemá vplyv na krivku produkčných možností.
- k) Zákon vzácnosti vysvetľuje základný problém ekonomie týkajúci sa vzácnosti a obmedzenosti zdrojov.
- l) V zmiešanej ekonomike prevláda štátne vlastníctvo.
- m) Negatívne externality sú vedľajšie produkty ekonomickej činnosti, ktoré prechádzajú trhom.

